



# OMAGE 6. SINIF TÜRKİYE GENELİ KURUMSAL DENEME SINAVI -2 TÜRKÇE ÇÖZÜMLERİ

## (A Kitapçığı)

1. Ağzı kulaklarına varmak, Saman altında su yürütmek, Ateşle oynamak, anlamları verilen deyimlerdir.  
**Cevap B'dir.**
2. Verilen grafikten yola çıkarak "Mert, Aslı'dan daha çok masal kitabı okumuştur." sonucuna ulaşamayız.  
**Cevap D'dir.**
3. Verilen metinde "kimsesizler mezarlığında kendini bulur." ifadesi gereken ilgiden yoksun olmak anlamına gelecek şekilde kullanılmıştır.  
**Cevap B'dir.**
4. "Her iyiliğin içinde bir kötülük, her kötülüğün içinde bir iyilik vardır." cümlesinde örtülü anlam yoktur.  
**Cevap A'dır.**
5. II ve IV cümlelerdeki -de/-da bağlaçlarının yanlış yazıldığı görülür.  
**Cevap D'dir.**
6. Verilen sözcüklerle "Hayat, inişli çıkışlı bir yolda yürümeye benzer." cümlesini elde ederiz. Bu durumda IV. sözcük baştan üçüncü sözcük olur.  
**Cevap C'dir.**
7. Verilen metne göre " Sağlıklı beslenmek için adımlar atılması" biyoçeşitliliği koruma yöntemlerinden biri olamaz.  
**Cevap D'dir.**
8. "Geceleri farklı bir yalnızlık sarar içimi." cümlesinde -ler/-lar çokluk eki cümlede belirtilen anlamların dışında (çokluk anlamında) kullanılmıştır.  
**Cevap B'dir.**
9. "C" seçeneğindeki "Bütün hayvanların değerli mi olduğunu düşünüyor sun?" cümlesinde karşısındaki kişinin duygularını anlamaya yönelik olduğu için empati yapılmıştır.  
**Cevap C'dir.**
10. Verilen metinde yazarın her olaya farklı bakması gerektiği vurgulandığı için metnin ana düşüncesi "Sanatçı, olaylara her zaman yeni gözle bakmayı bilmelidir." olacak.  
**Cevap B'dir.**
11. "A" seçeneğindeki şiirin teması bahar olurken "iri" ve "ufaklı" sözcükleri de zıt anlamlıdır.  
**Cevap A'dır.**
12. "Tutmak" sözcüğünün "D" seçeneğindeki anlamın dışında diğer anlamlarda kullanılmıştır.  
**Cevap D'dir.**

13. Belirtilen metin devamı "çocuğun zihinsel gelişiminde aileler, çocuğu sınırlandırıcı davranışta bulunmamalıdır." ile devam edilmelidir. Çünkü metinde ailelerin çocukların öğrenmelerine engel olmaması gerektiği vurgulanıyor.

**Cevap B'dir.**

14. Metinde tableti çok fazla oynayan çocuklarda bazı olumsuz etkilerinden bahsedildiği için metnin konusu " Gereğinden fazla tablet oynamanın çocuklardaki olumsuz etkileri" olacaktır.

**Cevap B'dir.**

15. Verilen öncülleri tabloya yerleştirdiğimizde Mehmet'in salı günü nöbet tuttuğu sonucuna varırız.

**Cevap A'dır.**

# OMAGE 6. SINIF TÜRKİYE GENELİ KURUMSAL DENEME SINAVI -2 SOSYAL BİLGİLER ÇÖZÜMLERİ

## (A Kitapçığı)

1. Bir yerin iklimi ve yeryüzü şekilleri o yerin coğrafi özellikleriyle ilgilidir.  
**Doğru cevap B'dir.**
2. Doğru eşleştirme aşağıdaki tabloda olduğu gibidir.  
**Bu nedenle Cevap C'dir.**

2.

Kültürü Oluşturan Öğeler		
DİL	DİN	TARİH
İnsanların duygu ve düşüncelerini birbirine aktarmak için sözcükler ya da işaretler aracılığıyla kurduğu iletişime verilen addır. Bir milletin yaşayışına dair her türlü maddi ve manevi değerler bu kültür ögesi ile ifade edilir.	Bu kültür ögesi insanların yaşayışını, duygularını ve toplumların yapısını etkileyerek kültürü şekillendirir. Her kültür, ait olduğu toplumdaki insanların inancının taşıdır. Her birey kendi değerleri doğrultusunda inancının gereklerini yerine getirebilmelidir.	Bu kültür ögesi sayesinde bir milletin oluşturduğu ortak kültür mirası geçmişten günümüze aktarılabilir. Bu sayede bireyler geçmişine ait kültürel değerleri öğrenerek bunları yaşatmaya çalışır. İnsanların geçmişlerini bilmesi, ortak bir bilincine sahip olması toplumsal birlikteliğin oluşmasında etkilidir.

Tabloda soru işareti olan yerlere aşağıdakilerden hangisi getirilemez?

- A) Dil                      B) Din                       C) Sanat                      D) Tarih

3. A, C ve D seçeneklerinde mesleklerle ilgili bilgiler verilmiştir. Bunlar sonradan sahip olunan rollerle ilgilidir. B seçeneğinde ise Asya'nın evin en büyük çocuğu olması doğuştan getirilen bir roldür.  
**Cevap B'dir.**

4. Aşağıda gösterildiği gibi bütün öncüllere ulaşılabilir.  
**Cevap D'dir.**

4. Hz. Ömer döneminde yapılan yeniliklerden bazıları şunlardır:

- Suriye, Filistin, Irak ve Mısır, İslam devleti topraklarına bu dönemde katıldı.
- Devlet teşkilatlanması konusunda yenilikler yapıldı.
- Ülke, eyalet adı verilen yönetim birimlerine ayrıldı. Eyaletlere vali ve kadılar atandı.
- Divan örgütü kuruldu. Beytül Mal adı verilen devlet hâzinesi oluşturuldu.
- Hicri takvim yapıldı. İlk kez İslam devletine ait düzenli bir ordu kuruldu.

**Buna göre Hz. Ömer dönemiyle ilgili olarak,**

- I. Devlet yönetimiyle ilgili düzenlemeler yapılmıştır.
- II. Ülkenin sınırları genişletilmiştir.
- III. Askerî alanda düzenlemeler yapılmıştır.

**Yargılarından hangilerine ulaşılabilir?**

A) Yalnız I                      B) I ve III  
C) II ve III                       D) I, II ve III

5. Haritada yeri gösterilen ve hakkında bilgi verilen devlet Büyük Hun Devleti'dir.

**Cevap A'dır.**

6. Aşağıda gösterildiği gibi I ve II. öncüllere ulaşılabilir. Ancak İslamiyet öncesi Arap yarımadasındaki ekonomik faaliyetlerle ilgili bilgiye yer verilmemiştir.

**Cevap B'dir.**

6. İslamiyet'ten önce Arapların büyük çoğunluğu putlara tapardı. Her Arap kabilesinin kendine ait putları bulunmaktaydı. Arap kabileleri önemli ve ortak sayılan putlarını Kâbe'ye koyardı. Araplar, yılın belli bir döneminde Mekke'ye gelerek Kâbe'yi ziyaret ederdi. Puta tapmanın dışında insanların bir kısmı da Musevîlik, Hıristiyanlık ve Mecusilik dinlerine inanmaktaydı.

**Verilen metinden hareketle İslamiyet öncesi Arap yarımadasıyla ilgili olarak;**

- I. Farklı dinlere inanan insanların bulunduğu,
- II. Kabe'nin İslamiyet'ten önce de kutsal sayıldığı,
- III. En temel ekonomik faaliyetin ticaret olduğu

**bilgilerinden hangilerine ulaşılabilir?**

A) Yalnız II

I ve II

C) II ve III

I, II ve III

7. A seçeneğinde önyargı değil bir olasılık söz konusudur. Ancak B, C ve D seçeneklerinde bir kişiye karşı duyulan ön yargı vardır.

**Cevap A'dır.**

8. Ramazan Bayramı ile ilgili verilen metinde "İslam alemindeki oruç tutma ayından sonra ..." cümlesiyle dini bir bayram olduğu, bu bayramda eş-dost ziyaretleri yapıldığı ve kalabalık sofralar kurulduğu kısmıyla toplumsal dayanışmayı arttırdığı çıkarımlarına ulaşılabilir. Ancak bu bayram bütün İslam aleminde kutlanan bir bayram olduğu bilgisi III. öncülü çürütmektedir. Bu nedenle II ve III. öncüle ulaşılabilir.

**Cevap C'dir.**

9. Aşağıda da gösterildiği gibi metinde öncüllerin tamamına ait bilgiye yer verilmiştir.

**Cevap D'dir.**

9. Talas Savaşı'ndan sonra boylar halinde Müslümanlığı seçen Türklerin hayatında birçok alanda değişiklikler yaşandı. Türkler İslamiyet'teki gaza ve cihat anlayışını benimsediler ve İslam uğruna fetihlere öncülük etmeye başladılar. Göçebe yaşam tarzından yerleşik hayata geçtiler. Şehirler kurup tarım ve ticaretle uğraşmaya başladılar. Dil, sanat ve edebiyat alanında yeni çalışmalar ortaya koydular.

**Verilen metinde Türklerin İslamiyet'i kabulüyle;**

- I. askeri,
- II. kültürel,
- III. ekonomik

**alanlardan hangileriyle ilgili yaşanan değişikliklere değinilmiştir?**

A) Yalnız II

B) I ve II

C) I ve III

D) I, II ve III

10. Ali Bey, belediyeye verdiği dilekçe ile vatandaşlık görevini yerine getirmiştir. (I. öncül) İçme suyu ile ilgili bir şikâyetten bahsedildiği için bu durum halk sağlığını korumaya yöneliktir. (II. öncül) Ancak belediyelere şikâyet, dilek ve temennilerin sadece dilekçe yoluyla yapıldığı ile ilgili bir çıkarıma ulaşamaz.

**Cevap B'dir.**

# OMAGE 6. SINIF TÜRKİYE GENELİ KURUMSAL DENEME SINAVI -2 DİN KÜLTÜRÜ ÇÖZÜMLERİ

## (A Kitapçığı)

1. Kunut duasının anlamından insanın Allah'a layık bir kul olmaya çalışarak ibadetleri onun rızasını kazanmak üzere yapması gerektiği, bunun da kişiyi Allah'a yakınlaştıracığı sonucu çıkartılabilir. Fakat ibadetlerin tamamının farz olması gibi bir sonuç çıkartılamaz.  
**Cevap C 'dir.**
2. Verilen paragraftan bütün canlıları ve ilk insan Hz. Adem'i en güzel şekilde yaratanın Allah olduğu çıkartılabilir. Fakat Hz. Adem'in çalışarak peygamber olduğu sonucu çıkartılamaz.  
**Cevap A 'dir.**
3. Verilen ayet, Yüce Allah'ın peygamberlerini kulları arasından kendi isteği ile seçtiğini anlatmaktadır.  
**Cevap B 'dir.**
4. Ahd-i Cedid adıyla da bilinen, Hz. İsa'ya (a.s.) gönderilen kutsal kitap İncil'dir.  
**Cevap D 'dir.**
5. Verilen metinde Allah tarafından gönderilen Kur'an'ın okuyup anlaşılmasıyla insanları doğru yola götüren bir kitap olduğu anlatılmaktadır. Fakat sadece Arapçasından değil Türkçe anlamının da okunması gerektiğinden bahsedilmektedir.  
**Cevap C 'dir.**
6. Paragrafta peygamberlerin insanlara en güzel örnek olan kişiler olduğundan bahsedilmektedir. Şıklarda verilen ayetlerin üçü (A, B, C) bu duruma örnek olan ayetler iken D şıkkı bahsi geçen konuya örnek ayet değildir.  
**Cevap D 'dir.**
7. Peygamberlerin ilahi mesajları insanlara açıklaması "tebliğ" sıfatıyla isimlendirilir.  
**Cevap A 'dir.**
8. Verilen paragrafta Allah'ın (c.c.) peygamberlerine özel olarak verdiği olağanüstü olaylar olan "mucize" kavramından bahsedilmektedir.  
**Cevap B 'dir.**
9. I, II ve III numaralı ifadelerin hepsi peygamberlerin insanları uyardığı konulardandır.  
**Cevap D 'dir.**
10. Kur'an-ı Kerim'de Allah'ın (c.c.) seçtiği elçileri olan Hz. Adem, Hz. İbrahim ve Hz. Musa'nın hayatından bilgiler bulunmaktadır. Fakat Hz. Adem'in oğlu olan Habil hem peygamber değildir hem de Kur'an'da ismi geçmez.  
**Cevap C 'dir.**

# OMAGE 6. SINIF TÜRKİYE GENELİ KURUMSAL DENEME SINAVI -2 İNGİLİZCE ÇÖZÜMLERİ

1. Soru kökünde doğru olan seçenek sorgulanmaktadır. Görsele baktığımızda Rose'unAva'dan daha ince olduğunu görmekteyiz.  
**Cevap: C**
2. Soru kökünde, kimin daha sakin ve huzurlu bir yerde yaşadığı sorgulanmaktadır. Konuşma balonlarına baktığımızda Jane: "Benim memleketim bir sürü ağacıyla oldukça güzel. Evler ve binalar küçük ve eski. Gürültü yok çünkü burada çok insan ve araba yok." Diyor. Buna göre Jane sessiz ve sakin bir yerde yaşamaktadır.  
**Cevap: A**
3. Soru kökünde James'in Oliver'a sormadığı soru sorgulanmaktadır. D şıkkında: "Okula nasıl gidersin?" sorusunun cevabını Oliver vermemiştir.  
**Cevap: D**
4. Soru boşluğu dolduracak seçenek sorgulanıyor. George 8.15'te okula gittiği için cevap C'dir.  
**Cevap: C**
5. Soru kökünde kimin sağlıklı bir kahvaltı yapmadığı sorgulanıyor. Mia: "Ben sabahları salm, sucuk ve tost yemekten hoşlanırım. Genellikle kahve içerim." Diyor. Bu ifadelerden Mia'nın sağlıksız bir kahvaltı yaptığını anlıyoruz.  
**Cevap: B**
6. Soru kökünde hangi resim metindeki bir aktiviteyi göstermez diye söylenmiş. B şıkkında çocuk salıncakta sallanıyor. Salıncakta sallanmanın İngilizcesi swinging'tir. Swinging kelimesi metinde geçmiyor.  
**Cevap: B**
7. Soru kökündeJack'in konuşma balonu hangisidir diye sorgulanıyor. Jack köyde yaşamının birkaç dezavantajı vardır diyor. Şıklara baktığımızda D şıkkında: "Köyde yapacak bir şey yok. Bence sıkıcı." İfadesi Jack'e aittir.  
**Cevap: D**
8. Soru kökünde yanlış olan seçenek sorgulanıyor. Metne baktığımızda Zoe kahvaltıda simit, salatalık, domates, peynir ve yumurta yiyor. Ayrıca portakal suyu içiyor. D şıkkında Zoe'nun kahvaltıda abur cubur yediğinden bahsedilmiş.  
**Cevap: D**
9. Soru kökünde doğru olan seçenek sorgulanıyor. Grafiğe baktığımızda Türk gençlerinin yarısı çayı diğer içeceklerle tercih ediyor.  
**Cevap: D**
10. Soru kökünde yanlış olan seçenek sorgulanıyor. C seçeneğinde Daisy'nin besleyici yiyecekler sipariş ettiği söylenmiş. Ancak Daisy patates kızartması siparişi vermiş.  
**Cevap: C**

1)

A) 12

B) 18

C) 21

D) 30

12'nin asal çarpanları 2 ve 3'tür. 2 tane olduğundan 2 blok üst üste konularak yüksekliği oluşturulacaktır.

18'nin asal çarpanları 2 ve 3'tür. 2 tane olduğundan 2 blok üst üste konularak yüksekliği oluşturulacaktır.

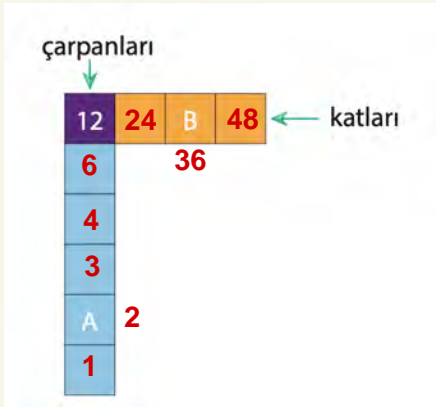
21'in asal çarpanları 3 ve 7'dir. 2 tane olduğundan 2 blok üst üste konularak yüksekliği oluşturulacaktır.

30'un asal çarpanları 2, 3 ve 5'tir. 3 tane olduğundan 3 blok üst üste konularak yüksekliği oluşturulacaktır.

Dolayısıyla yüksekliği diğerlerine göre daha fazla olan 30'dur.

**Doğru cevap D seçeneğidir.**

2)



$$B : A = 36 : 2 = 18$$

**Doğru cevap B seçeneğidir.**

3)

A) 216

B) 307

C) 402

D) 520

216 sayısı 3'ün tam katı;

402 sayısı 3'ün tam katı;

520 sayısı ise 5'in tam katıdır.

307 sayısı 3'ün ya da 5'in katı değildir. o yüzden sarı renkle kaplanmış olmalıdır.

**Doğru cevap B seçeneğidir.**



4)

$$15 + 8 \times 2 - 12 \div 4$$

Şekil-1

$$\begin{aligned} &= 15 + 16 - 12 : 4 \\ &= 15 + 16 - 3 \\ &= 31 - 3 \\ &= 28 \end{aligned}$$



Şekil-2

Sarı-mor-turuncu-pembe sıralamasında olmalıdır.

**Doğru cevap B seçeneğidir.**

5)



$$3^4 = 81$$

$$2^5 = 32$$

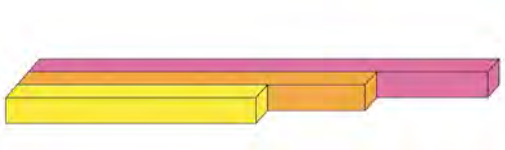
$$9^2 = 81$$

$$4^3 = 64$$

İçerisine hiç top atılmayan kutunun üzerindeki sayı 128'dir.

**Doğru cevap D seçeneğidir.**

6)



A)  $3^4, 7^2, 5^2$

B)  $3^2, 4^3, 6^2$

C)  $2^4, 5^2, 4^3$

D)  $8^2, 3^3, 4^2$

Kalaların uzunlukları sırasıyla sarı < turuncu < pembe şeklinde olmalıdır. Şıklarda küçükten büyüğe uygun olan seçenek C seçeneğidir.

**Doğru cevap C seçeneğidir.**

- 7) Verilen tel ile hem kare hem de eşkenar üçgen şekli oluşturulabiliyorsa telin uzunluğu o hem üç es parçaya hem de dört es parçaya ayrılabilir demektir. O yüzden telin uzunluğu hem üçün hem de dördün tam katı olmalıdır. Şıklarda ise hem üçe hem de dörde kalansız bölünebilen sayı 468'dir.

**Doğru cevap D seçeneğidir.**

- 8) Jüpiter ve Uranüs Apartmanlarında her katta 4'er daire olduğundan toplam daire sayısı  $4 \cdot 4 + 4 \cdot 6$  işlemiyle bulunur. Bu işlemin ortak çarpan parantezine alınmış hali ile de sonuç bulunabilir. Bu da  $4 \cdot (4 + 6)$  işlemidir.

**Doğru cevap B seçeneğidir.**

- 9) Turuncu bölgelerdeki sayılar 3,5,7 ve 9 olduğundan A, B ve D seçeneklerinde farklı gösterimler doğrudur. C seçeneğindeki ortak özellik yöntemiyle gösterilmiş olan kümenin elemanları 1,3,5,7 ve 9 olduğundan turuncu bölge dışındaki bir elemanı da kapsamaktadır. O yüzden C seçeneğindeki turuncu bölgedeki sayıları temsil etmez.

**Doğru cevap C seçeneğidir.**

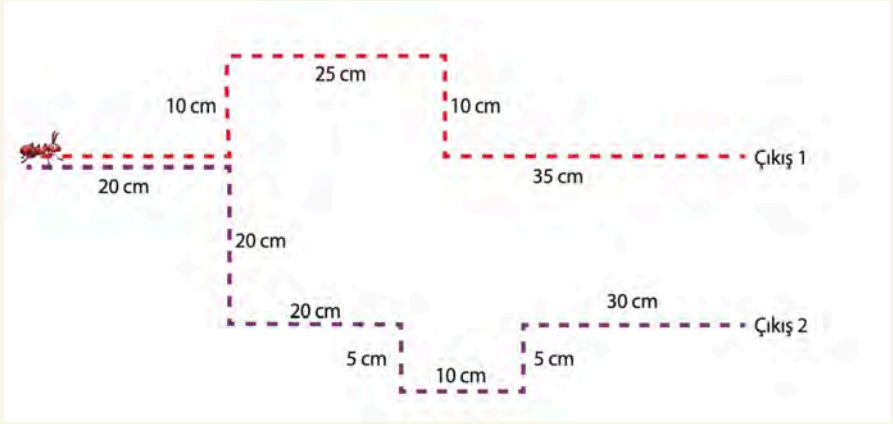
10)

639	<del>720</del>
375	428
700	819
825	<del>930</del>

Sadece 2'ye tam bölünebilenler; 428, 700  
Sadece 3'e tam bölünebilenler; 639,375,819, 825  
6'ya tam bölünebilenler; 720, 930'dur.

**Doğru cevap C seçeneğidir.**

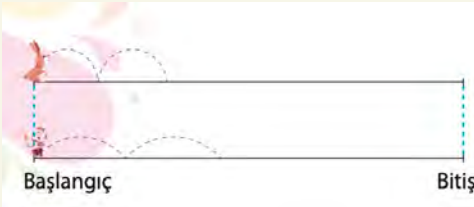
11)



Kırmızı güzergahta alınan yol mesafesi;  $20+10+ 25+ 10+ 35=100$  cm  
Mor güzergahta alınan yol mesafesi;  $20+20+20+5+10+5+30 = 110$  cm  
Güzergahlarda alınan toplam yol mesafesi  $110+100=210$  cm'dir.

**Doğru cevap D seçeneğidir.**

12)



Tavşan ve kaplan sırasıyla 30 dm ve 50 dm uzunlukta zıplayarak aynı yolu tamamlayabiliyorlarsa; yolun uzunluğu hem 30'un hem de 50'nin katı olmalıdır.

Seçeneklerde hem 30'un hem de 50'nin katı olan sayı 300'dür.

**Doğru cevap B seçeneğidir.**

13) Ekranı gelen 478 üründen 142 tanesi kalktığına göre ekranda filtrelemeden sonra  $478-142= 336$  ürün bulunmaktadır. Her sayfada 12'şer ürün gösterildiğinden  $336:12= 28$  tane sayfa görülebilir.

**Doğru cevap A seçeneğidir.**

14)



- A)  $A = \{\text{Kutudaki 5 harfli meyveler}\}$   
B)  $B = \{\text{Kutudaki ağaçta yetişen meyveler}\}$   
C)  $C = \{\text{Kutudaki 6 harfli meyveler}\}$   
D)  $D = \{\text{Kutudaki dört harfli meyveler}\}$

Kutudaki 5 harfli meyveler; armut, kavun

Kutudaki ağaçta yetişen meyveler; armut, şeftali, elma, erik olabilir.

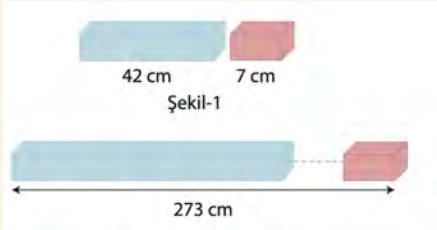
Kutudaki 6 harfli meyveler; ananas olabilir.

Kutudaki 4 harfli meyveler; üzüm, elma, erik, kivi olabilir.

Fakat Ece en az 2 kart çekip küme oluşturduğu için oluşturulan kümelerin en az iki elemanı olmalıdır. bu yüzden kutudaki 6 harfli meyveler kümesini oluşturamaz.

**Doğru cevap C seçeneğidir.**

15)



Zeminde oluşturulan yapının uzunluğu 273 cm ve bu yapıda 5 tane mavi blok kullanılmıştır. Buna göre mavi blokların 5 tanesi  $5 \cdot 42 = 210$  cm uzunluğundadır.

Geriye  $273 - 210 = 63$  cm uzunluğu kalmaktadır.

Bu uzunluğun tamamı da pembe bloklarla kaplanmıştır. pembe blokların uzunluğu ise 7 cm olduğundan, kullanılan pembe blokların sayısı ise  $63 : 7 = 9$  tane dir.

**Doğru cevap C seçeneğidir.**

# OMAGE 6. SINIF TÜRKİYE GENELİ KURUMSAL DENEME SINAVI -2 FEN BİLİMLERİ ÇÖZÜMLERİ

(A Kitapçığı)

1. 18 Haziran'da gerçekleşen Ay tutulmasında Ay Dolunay evresindedir, 3 Temmuz'da gerçekleşen Güneş tutulmasında ise yeni ay evresindedir. Bu iki evre arasında yaklaşık iki haftalık bir zaman vardır. Güneş tutulmalarında Ay'ın gölgesi Dünya üzerine düşer. Ay tutulmaları Dünya'da gecenin yaşandığı bölgelerde gözlemlenebilir. Her güneş ya da Ay tutulmasından sonra yine bir tutulma olayı gözlemlenecek diye bir kural yoktur. Bundan dolayı,

**Cevap B seçeneğidir.**

2. Gezegenlerin Güneş'e olan uzaklıklarına göre dizildiği göz önüne alındığında Satürn'den sonra yer alan bir gezegene olan M gazsal gezegendir. Jüpiter, Satürn, Uranüs ve Neptün gazsal gezegenlerdir. Bundan dolayı,

**Cevap A seçeneğidir.**

3. Serdar'ın saat 03.00 – 03.40 arasındaki nabız değerine bakıldığında değer düşük olduğundan uyuyor olabileceği sonucu çıkarılabilir. Saat 09.00-09.40 arasında nabız değerinin artması koşmasından kaynaklanıyor olabilir. 15.00 – 15.40 arasında nabız değerine bakıldığında paraşütle atlayan bir kişiye göre oldukça düşük bir nabız değeri olduğu görülmektedir. Paraşütle atlayan bir kinini nabız değerinin günlük aktivitelere oranla daha yüksek olması bekleneneğinden,

**Cevap D seçeneğidir.**

4. Kalpten çıkan kan her zaman temiz değildir. Görsel incelendiğinde mavi ile kalpten çıkan kanın akciğerlerde temizlendiği görülmektedir. Bundan dolayı,

**Cevap C seçeneğidir.**

5.

	Fiziksel sindirim	Kimyasal sindirim
Ağız	✓	✓
Mide	✓	✓
Kalın bağırsak		

**Cevap B seçeneğidir.**

6. N kemik türü uzun kemiktir. Uzun kemiklerin uç kısımlarında kıkırdak doku bulunmaktadır. Bundan dolayı,

**Cevap B seçeneğidir.**

7. Kaslara ait verilen özellikler incelendiğinde;

X Düz kas Mide

Y Çizgili kas Kol

Z Kalp kası Kalp

**Cevap C seçeneğidir.**

8. K,L ve M besinlerinin temel bileşenleri grafikler üzerinde verilmiştir. Buna göre K besini Et, L besini yağ ve M besini Makarna olabilir.

**Cevap C seçeneğidir.**



9. Dış gezgenler (gazsal): Jüpiter, Satürn, Uranüs ve Neptün

Karasal (iç) gezgenler: Merkür, Venüs, Dünya ve Mars.

Güneş'ten uzaklaştıkça gezgenlerin sıcaklıkları azalır ancak bu çıkarımı tablodaki bilgiler ile elde edemeyiz. Bundan dolayı,

**Cevap D seçeneğidir.**

10. Kıkırdak doku uzun kemiklerin uçlarında bulunan kemiğin boyuna uzamasını eklemlerin rahat hareket etmesini sürtünmeyi azaltan özelliklere sahiptir. Bundan dolayı,

**Cevap D seçeneğidir.**

11. Meteorlar atmosfere girdikten sonra sürtünme kuvvetinin etkisiyle ısınır ve yanmaya başlarlar. Bunun sonucunda bazıları yeryüzüne ulaşmadan havada toz haline gelir. Bundan dolayı,

**Cevap C seçeneğidir.**

12. **Ali:** Çoban yıldızı olarak bilinen gezegene ulaşmalısın. **Venüs**

**Ahmet:** Güneş sisteminin en soğuk gezegenine gitmelisin. **Neptün**

**Betül:** Yan yatmış varil gibi dönen gezegene gitmelisin. **Uranüs**

**Ebrar:** Güneş sisteminin en büyük ikinci gezegenini bulmalısın. **Satürn**

**Cevap B seçeneğidir.**

13. Güneş tutulması olayında Güneş'ten gelene zararlı ışıklardan korunmak için bu olayı koruyucu gözlük ile takip etmek gerekmektedir. Ancak görselden böyle bir bilgiye ulaşamayız. Bundan dolayı **Cevap D seçeneğidir.**

14. 1.görselde kafatasına gelen darbe ile beyni koruması gösterilmiştir. 2. Görselde hareket eden bir çocuk gösterilmiştir. Bu görselde iskeletin vücuda dik duruş sağladığı da düşünülebilir. 3. Görselde kas ve kemiklerin bağlantı noktası olan tendon gösterilmiştir. Bundan dolayı, **Cevap A seçeneğidir.**

15. Gezegenlerin sıcaklığını belirleyen tek faktör Güneş'e olan uzaklık olsaydı, Güneşten uzaklaştıkça tüm gezegenlerin sıcaklığı azalmalıydı. Ancak Venüs Merkür'e göre Güneş'e daha uzak olmasına rağmen daha sıcak bir yüzeye sahiptir. Bunun da sebebi sahip olduğu atmosferidir. Bundan dolayı, **Cevap A seçeneğidir.**