

MOTİVASYON

O M A G E G O L D

8.
SINIF

TÜM DERSLER GENEL DENEME

2.

DENEME

SÖZEL BÖLÜM

Adı Soyadı:
Okulu:
Sınıfı / Şubesi:
Numarası:

| Dersler | Soru Sayısı | Toplam Soru Sayısı | Sınav Süresi (Dakika) |
|--|-------------|--------------------|-----------------------|
| TÜRKÇE | 20 | 50 | 75 |
| T.C. İNKILAP TARİHİ VE ATATÜRKÇÜLÜK | 10 | | |
| DİN KÜLTÜRÜ VE AHLAK BİLGİSİ | 10 | | |
| İNGİLİZCE | 10 | | |



AltınNokta

OMGe

NAKİTEST

O M A G E

TÜRKÇE

2. GENEL DENEME

Bu testte 20 soru vardır.
Cevaplarınızı, cevap kağıdına işaretleyiniz.

1.



Kısa çizgi, aşağıdaki cümlelerin hangisinde bu işlevlerin dışında kullanılmıştır?

- A) Küçük bir koruluk -yüz kadar çam ağacı- kasabanın girişini süslüyordu.
- B) 2020-2023 yılları Türk eğitim sistemi için yeni bir atılımın başlangıcı olacak.
- C) Öğretmenimiz, derste "başarılı" kelimesini "başar-ı-lı" şeklinde ekine ve köküne ayırdı.
- D) Sınavın heyecanından mı yoksa dışarıdaki kar soğuşundan mı bilinmez ellerim titriyordu.

T.C. İNKILAP TARİHİ VE ATATÜRKÇÜLÜK

2. GENEL DENEME

Bu testte 10 soru vardır.
Cevaplarınızı, cevap kağıdına işaretleyiniz.

1.

Sanayi İnkılabı, İngiltere’de başladı ve Avrupa devletlerine yayıldı. Bu olay sonucunda büyük fabrikalar kurulmaya başlandı. Üretim artışı ile birlikte ham madde ve pazar ihtiyacı ortaya çıktı. Ekonomik ve askeri yönden güçlü olan devletler, geri kalmış ülkeleri birer ham madde kaynağı ve açık pazar olarak gördüler, onlara ait toprakları işgal ederek sömürgeleştirdiler.

Osmanlı toplumu, Sanayi İnkılabı sonucunda ortaya çıkan teknolojik, ekonomik ve bilimsel gelişmelere kapalı kalmıştı. İnsanlar küçük el tezgahlarında üretim yapmaya çalışıyorlardı. Osmanlı Devleti kendi topraklarını koruyabilecek güçte değildi. Avrupa devletleri Kuzey Afrika’daki Osmanlı topraklarını sömürge edinmek için işgal etti.

Buna göre her iki durum değerlendirildiğinde aşağıdakilerden hangisi söylenemez?

- A) Sanayi İnkılabı Osmanlı Devleti’ni ekonomik ve siyasi yönden olumsuz etkilemiştir.
- B) Sanayileşemeyen devletler ham madde ve pazar kaynağı olarak görülmüştür.
- C) Osmanlı Devleti’nde üreticilerin el tezgâhları büyük fabrikalarla boy ölçüşebilecek düzeyde değildir.
- D) Osmanlı Devleti, Sanayi İnkılabı’nın getirdiği zor durumu denge politikası ile aşmayı başarmıştır.

OMG^e



DİN KÜLTÜRÜ VE AHLAK BİLGİSİ

2. GENEL DENEME

Bu testte 10 soru vardır.
Cevaplarınızı, cevap kağıdına işaretleyiniz.

1.



Bu görsellerde ifade edilen kader ile ilgili kavrama aşağıdaki ayetlerden hangisinde değinilmiştir?

A) "Her can, ölümü tadacaktır. Sonunda bize döndürüleceksiniz.""

(Ankebût suresi, 57. ayet)

B) "İnsan ancak kendi çalışmasının karşılığını elde edebilir. Onun çalışması ileride kesinlikle gözler önüne serilecektir"

(Necm suresi, 39-40. ayetler)

C) "Allah'ı bırakıp da sana ne fayda ve ne de zarar verebilecek olan şeylere yalvarma."

(Yunus suresi, 106. ayet)

D) "...Kararını verdiğin zaman artık Allah'a dayanıp güven. Çünkü Allah, kendisine dayanıp güvenenleri sever.


(Al-i İmrân suresi, 159. ayet)

İNGİLİZCE

2. GENEL DENEME

Bu testte 10 soru vardır.
Cevaplarınızı, cevap kağıdına işaretleyiniz.

1.



THE INTERNET

The Internet is a great source of information in today's world, especially for teenagers. They do lots of things online. They download music videos or movies. They make live chats to meet new people or play online games. They can find whatever they want on the Net. Many teenagers have social network accounts. They share status or photos and comment on them via Facebook or Instagram. However, the Internet has many disadvantages. It can cause Internet addiction if we spend too much time online. It also affects our daily lives. We become asocial or overweight. So, we must be careful while using the Internet.

According to the text, which of the following is NOT correct?

- A) You can meet new people or make new friends online.
- B) Researches show that the usage of the Internet is increasing.
- C) There are lots of bad sides of the Internet.
- D) We can do many things easily by the help of the Internet.

ÖĞRENCİLERİN DİKKATİNE

1. Cevap kâğıdınızı silinmeyen bir kalemle imzalayınız.
2. Cevaplamaya istediğiniz sorudan başlayabilirsiniz.
3. Cevaplarınızı, cevap kâğıdındaki ilgili soru numarasını dikkate alarak yuvarlağın dışına taşırmeden kurşun kalemle kodlayınız.
4. Cevabını bilmediğiniz sorular üzerinde fazla zaman kaybetmeden diğer sorulara geçiniz. Zamanınız kalırsa bu sorulara daha sonra dönebilirsiniz.
5. Soru kitapçığının içindeki boş alanları çözümlerinizi için kullanabilirsiniz.
6. Soru kitapçığının sayfalarını görevlilerin uyarıları doğrultusunda kontrol ediniz, baskı hatası var ise değiştirilmesini sağlayınız.
7. Soru kitapçığı üzerinde yapıp cevap kâğıdına işaretlenmeyen cevaplar değerlendirmeye alınmayacaktır.
8. Değiştirmek istediğiniz bir cevabı, yumuşak silgiyle cevap kâğıdını yıpratmadan temizce siliniz ve yeni cevabınızı kodlayınız.
9. Cevap kâğıdınızı sınav süresince hiçbir öğrencinin göremeyeceği şekilde önünüzde bulundurunuz.
10. Sınav bitiminde, soru kitapçığı ve cevap kâğıdını salon görevlilerine teslim ediniz.

Copyright©ALTIN NOKTA

Bu kitabın her hakkı saklıdır. Tüm hakları ALTIN NOKTA YAYINEVİ'ne aittir. Kısmen de olsa alıntı yapılamaz. Metinler, kitabı yayımlayan kurumun önceden izni olmaksızın elektronik, mekanik, fotokopi ya da herhangi bir kayıt sistemiyle çoğaltılamaz, yayımlanamaz.

MOTİVASYON

O M A G E G O L D

8.
SINIF

TÜM DERSLER GENEL DENEME

2.

DENEME

SAYISAL BÖLÜM

Adı Soyadı:

Okulu:

Sınıfı / Şubesi:

Numarası:

| Dersler | Soru Sayısı | Toplam Soru Sayısı | Sınav Süresi (Dakika) |
|---------------|-------------|--------------------|-----------------------|
| MATEMATİK | 20 | 40 | 80 |
| FEN BİLİMLERİ | 20 | | |



AltınNokta

OMGe

NAKİTEST

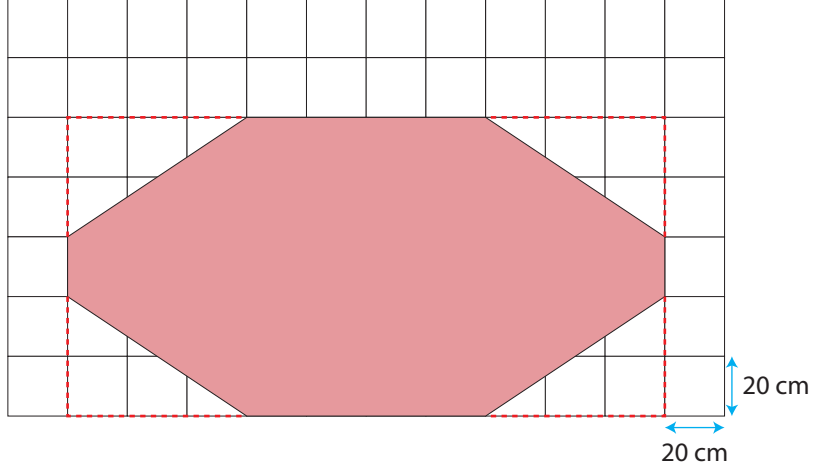
O M A G E

MATEMATİK

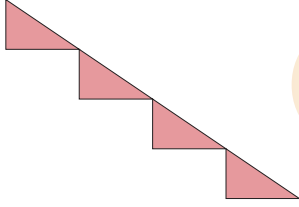
2. GENEL DENEME

Bu testte 20 soru vardır.
Cevaplarınızı, cevap kağıdına işaretleyiniz.

1.



Zeynep dikdörtgen şeklindeki masa örtüsünden şekildeki gibi köşelerinden dört parçayı kesiyor.



Çıkan parçaları da yandaki gibi uç uca ekleyerek masanın kenar kısmını süslemek için kullanıyor.

Buna göre Zeynep'in oluşturduğu süs parçasının çevre uzunluğu cm cinsinden aşağıdakilerden hangisidir?

A) $20\sqrt{13}$

B) $20\sqrt{13} + 200$

C) $80\sqrt{13}$

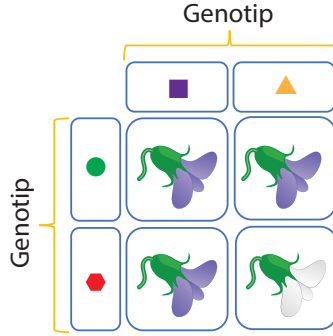
D) $80\sqrt{13} + 400$

FEN BİLİMLERİ

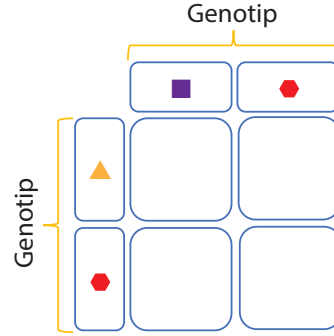
2. GENEL DENEME

Bu testte 20 soru vardır.
Cevaplarınızı, cevap kağıdına işaretleyiniz.

1. Çiçek renklerini belirleyen alel genleri geometrik şekillerle gösterilen iki bezelye bitkisinin çaprazlanması sonucu oluşan bezelyelerin fenotipleri Şekil 1'deki gibi olmuştur.



Şekil-1



Şekil-2

Buna göre, alel genleri Şekil 2'deki gibi olan iki bezelye bitkisinin çaprazlanması sonucu oluşan bezelyelerin fenotipleri hangi seçenekteki gibi olur? (Mor çiçek baskın, beyaz çiçek çekiniktir.)

