

# MOTİVASYON

O M A G E G O L D

8.  
SINIF

# TÜM DERSLER GENEL DENEME

4.

DENEME

## SÖZEL BÖLÜM

Adı Soyadı: .....

Okulu: .....

Sınıfı / Şubesi: .....

Numarası: .....

Dersler	Soru Sayısı	Toplam Soru Sayısı	Sınav Süresi (Dakika)
TÜRKÇE	20	50	75
T.C. İNKILAP TARİHİ VE ATATÜRKÇÜLÜK	10		
DİN KÜLTÜRÜ VE AHLAK BİLGİSİ	10		
İNGİLİZCE	10		



AltınNokta

OMGe

NARTEST

O M A G E

# TÜRKÇE

## 4. GENEL DENEME

Bu testte 20 soru vardır.  
Cevaplarınızı, cevap kağıdına işaretleyiniz.

1. Pıksel boyama; görsel algı gelişimini destekleyen, odaklanma süresini ve dikkatini geliştiren bir oyundur. Bu oyun, verilen kodların boyanması esasına dayanır. Bu kodlar satır ve sütunun kesiştiği kareyi kapsamaktadır.

**Buna göre,**

KIRMIZI	B1-H1-B6-F7-J7
MAVİ	E1-D3-E3-F3-D4-D5-H5-H7
YEŞİL	C1-D1-F1-G1-B2-H2-B3-H3-B4-F4-H4-J4-B5-F5-J5-C6-D6-F6-J6-G7-I7

**tabloda kodları verilen piksel boyama sonucu oluşan şekil aşağıdakilerden hangisidir?**

A)

	A	B	C	D	E	F	G	H	I	J
1		KIRMIZI	YEŞİL	YEŞİL	MAVİ	YEŞİL	YEŞİL	KIRMIZI		
2		YEŞİL						YEŞİL		
3		YEŞİL		MAVİ	MAVİ	MAVİ		YEŞİL		
4		YEŞİL		MAVİ	YEŞİL			MAVİ		KIRMIZI
5		YEŞİL		MAVİ	YEŞİL			MAVİ		YEŞİL
6		KIRMIZI	YEŞİL	YEŞİL	YEŞİL	YEŞİL	YEŞİL	YEŞİL		YEŞİL
7					KIRMIZI	YEŞİL	MAVİ	YEŞİL	KIRMIZI	
8										

B)

	A	B	C	D	E	F	G	H	I	J
1		KIRMIZI	YEŞİL	YEŞİL	MAVİ	YEŞİL	YEŞİL	KIRMIZI		
2		YEŞİL						YEŞİL		
3		YEŞİL		MAVİ	MAVİ	MAVİ		YEŞİL		
4		YEŞİL		MAVİ	YEŞİL			MAVİ		YEŞİL
5		YEŞİL		MAVİ	YEŞİL			MAVİ		YEŞİL
6		KIRMIZI	YEŞİL	YEŞİL	YEŞİL	YEŞİL	YEŞİL	YEŞİL		YEŞİL
7					KIRMIZI	YEŞİL	MAVİ	YEŞİL	KIRMIZI	
8										

C)

	A	B	C	D	E	F	G	H	I	J
1		KIRMIZI	YEŞİL	YEŞİL	MAVİ	YEŞİL	YEŞİL	KIRMIZI		
2		YEŞİL						YEŞİL		
3		YEŞİL		MAVİ	MAVİ	MAVİ		YEŞİL		
4		YEŞİL		MAVİ	YEŞİL			MAVİ		YEŞİL
5		YEŞİL		MAVİ	YEŞİL			MAVİ		YEŞİL
6		KIRMIZI	YEŞİL	YEŞİL	YEŞİL	YEŞİL	YEŞİL	YEŞİL		YEŞİL
7					KIRMIZI	YEŞİL	MAVİ	YEŞİL	KIRMIZI	
8										

D)

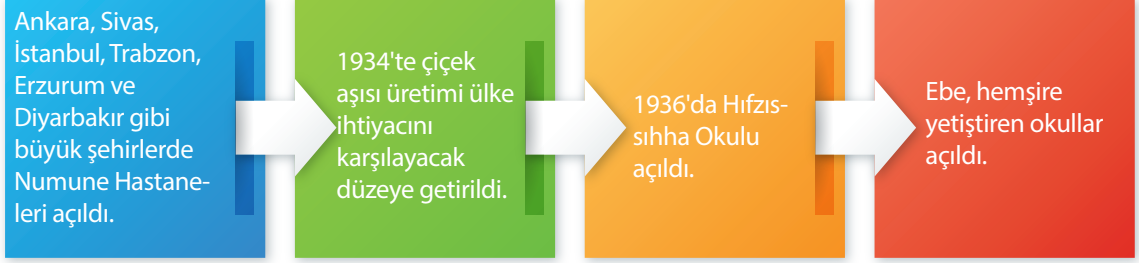
	A	B	C	D	E	F	G	H	I	J
1		KIRMIZI	YEŞİL	YEŞİL	MAVİ	YEŞİL	YEŞİL	KIRMIZI		
2		YEŞİL						YEŞİL		
3		YEŞİL		MAVİ	MAVİ	MAVİ		YEŞİL		
4		YEŞİL		MAVİ	YEŞİL			MAVİ		YEŞİL
5		YEŞİL		MAVİ	YEŞİL			MAVİ		YEŞİL
6		KIRMIZI	YEŞİL	YEŞİL	YEŞİL	YEŞİL	YEŞİL	YEŞİL		YEŞİL
7					KIRMIZI	YEŞİL	MAVİ	YEŞİL	KIRMIZI	
8										

# T.C. İNKILAP TARİHİ VE ATATÜRKÇÜLÜK

## 4. GENEL DENEME

Bu testte 10 soru vardır.  
Cevaplarınızı, cevap kağıdına işaretleyiniz.

1.



**Buna göre sağlık alanında yapılan çalışmalarla ilgili;**

- I. Sağlık kuruluşları ülke geneline yayılmaya çalışılmıştır.
- II. Aşı üretiminde ülke ihtiyacının karşılanması amaçlanmıştır.
- III. Toplum sağlığını tehdit eden hastalıklara karşı çalışmalar yapılmıştır.
- IV. Sağlık personeli yetiştirmek için eğitim kurumları açılmıştır.

**yorumlarından hangilerine ulaşılabilir?**

A) I, II ve III

B) I, II ve IV

C) II, III ve IV

D) I, II, III ve IV

# DİN KÜLTÜRÜ VE AHLAK BİLGİSİ

## 4. GENEL DENEME

Bu testte 10 soru vardır.  
Cevaplarınızı, cevap kağıdına işaretleyiniz.

1.

**Hz. Muhammed (s.a.v.) ;**

- Özü ve sözü bir olan bir insandı, adaletle hareket ederdi.
- Peygamberliğinden önce kendisi "Muhammed'ül Emin" olarak anılırdı.
- Kendine emanet edilenleri sahiplerine zamanında eksiksiz teslim ederdi.

**Tabloda verilen Hz. Muhammed (s.a.v.) ile ilgili özellikleri kapsayan en geniş kapsamlı yargı hangi seçenekte bulunan ayetten çıkarılabilir?**

A) "Verdiğiniz sözü yerine getirin. Çünkü verilen söz, sorumluluk gerektirir."

(İsra suresi, 34.ayet)

B) "Andolsun, Allah'ın Resulünde sizin için Allah'a ve ahiret gününe kavuşmayı uman, Allah'ı çok zikreden kimseler için güzel bir örnek vardır."

(Ahzab suresi, 21.ayet)

C) "Biliyoruz onların dedikleri seni üzüyor, gerçekte onlar seni yalanlamıyorlar. Fakat o zalimler, bile bile Allah'ın ayetlerini inkar ediyorlar."

(Enam suresi, 33.ayet)

D) "Şayet sen kaba ve kaba kalpli olsaydın, şüphesiz etrafından dağılıp giderdi."

(Al-i İmran suresi, 159.ayet)

OMG

# İNGİLİZCE

## 4. GENEL DENEME

Bu testte 10 soru vardır.  
Cevaplarınızı, cevap kağıdına işaretleyiniz.

1.



**Mary's Favourite Chores**

- ✦ Dusting the shelves
- ✦ Sweeping the leaves
- ✦ Loading and emptying the dishwasher
- ✦ Watering the flowers
- ✦ Taking out the garbage

**Jane's Favourite Chores**

- ✦ Mopping the floors
- ✦ Cooking
- ✦ Vacuuming the house
- ✦ Doing the laundry
- ✦ Moving the lawn

**Both William and Kate \_\_\_\_\_.**

- A) are keen on preparing lunch and dinner  
B) are fond of doing garden chores  
C) enjoy washing the clothes  
D) like taking out the rubbish

## ÖĞRENCİLERİN DİKKATİNE

1. Cevap kâğıdınızı silinmeyen bir kalemle imzalayınız.
2. Cevaplamaya istediğiniz sorudan başlayabilirsiniz.
3. Cevaplarınızı, cevap kâğıdındaki ilgili soru numarasını dikkate alarak yuvarlağın dışına taşırmeden kurşun kalemle kodlayınız.
4. Cevabını bilmediğiniz sorular üzerinde fazla zaman kaybetmeden diğer sorulara geçiniz. Zamanınız kalırsa bu sorulara daha sonra dönebilirsiniz.
5. Soru kitapçığının içindeki boş alanları çözümlerinizi için kullanabilirsiniz.
6. Soru kitapçığının sayfalarını görevlilerin uyarıları doğrultusunda kontrol ediniz, baskı hatası var ise değiştirilmesini sağlayınız.
7. Soru kitapçığı üzerinde yapıp cevap kâğıdına işaretlenmeyen cevaplar değerlendirmeye alınmayacaktır.
8. Değiştirmek istediğiniz bir cevabı, yumuşak silgiyle cevap kâğıdını yıpratmadan temizce siliniz ve yeni cevabınızı kodlayınız.
9. Cevap kâğıdınızı sınav süresince hiçbir öğrencinin göremeyeceği şekilde önünüzde bulundurunuz.
10. Sınav bitiminde, soru kitapçığı ve cevap kâğıdını salon görevlilerine teslim ediniz.

Copyright©ALTIN NOKTA

Bu kitabın her hakkı saklıdır. Tüm hakları ALTIN NOKTA YAYINEVİ'ne aittir. Kısmen de olsa alıntı yapılamaz. Metinler, kitabı yayımlayan kurumun önceden izni olmaksızın elektronik, mekanik, fotokopi ya da herhangi bir kayıt sistemiyle çoğaltılamaz, yayımlanamaz.

# MOTİVASYON

O M A G E G O L D

8.  
SINIF

# TÜM DERSLER GENEL DENEME

4.

DENEME

## SAYISAL BÖLÜM

Adı Soyadı: .....

Okulu: .....

Sınıfı / Şubesi: .....

Numarası: .....

Dersler	Soru Sayısı	Toplam Soru Sayısı	Sınav Süresi (Dakika)
MATEMATİK	20	40	80
FEN BİLİMLERİ	20		



AltınNokta

OMGe

NAKİTEST

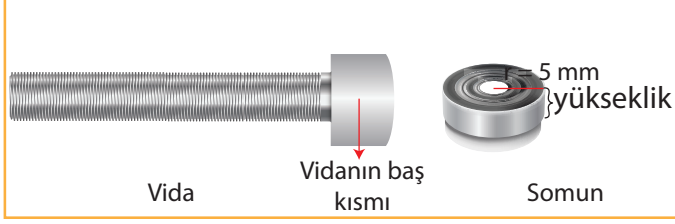
O M A G E

# MATEMATİK


## 4. GENEL DENEME

Bu testte 20 soru vardır.  
Cevaplarınızı, cevap kağıdına işaretleyiniz.

1.



Şekil-1



Şekil-2

Şekil-1’de gösterilen vidaya yarıçapı 5 mm olan 5 adet eş somun Şekil-2’de gösterildiği gibi aralarında boşluk kalmadan eklendiğinde hacmi  $4500 \text{ mm}^3$  olan bir silindir elde ediliyor.

**Vidanın baş kısmı ile bir somunun yarıçapları ve yükseklikleri eşit silindir şeklinde olduklarına göre bir somunun yüksekliği kaç cm’dir? ( $\pi = 3$  alınız.)**

A) 1

B) 6

C) 10

D) 60

OMG<sup>e</sup>

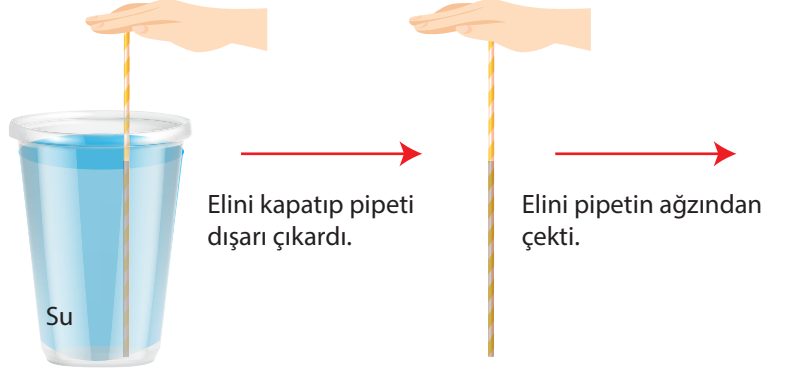


# FEN BİLİMLERİ

## 4. GENEL DENEME

Bu testte 20 soru vardır.  
Cevaplarınızı, cevap kağıdına işaretleyiniz.

1. Mehmet, bir bardak suyun içerisine batırdığı pipetin dışarıda kalan kısmını eli ile kapatıp kaptan çıkardığında suyun dökülmediğini fark etmiş, elini pipetin ağzından çektiğinde ise suyun yere döküldüğünü gözlemlemiştir.



### Mehmet'in yaptığı deneyle ilgili;

- I. Eli ile pipeti kapattığında suyun dökülmemesinin sebebi açık hava basıncının pipetin ucundaki sıvı basıncından fazla olmasıdır.
- II. Elini çektiğinde pipetteki suyun dökülmesinin sebebi açık hava basıncının ortadan kalkmasıdır.
- III. Bardaktaki su seviyesini yarıya indirip deneyi tekrarlırsa pipetteki sıvı seviyesi değişmez.

### ifadelerinden hangileri doğrudur?

- A) Yalnız I      B) Yalnız III      C) I ve II      D) II ve III