

6.
SINIF

SOSYAL BİLGİLER - 1 . DÖNEM ALİ ÖĞRETMEN

Bu sorular Nartest 6. Sınıf Mod
Soru Bankasından alınmıştır.

-Özgün Sorular

-Yeni Nesil Beceri Temelli Sorular

SOSYAL BİLGİLER

NARTEST İLE DAİMA BİR ADIM ÖNDESİNİZ.

1.
DÖNEM

**TAMAMEN ÜCRETSİZ
SINAV ÖNCESİ NARTEST-OMAGE HEDİYESİDİR!**

CEVAP ANAHTARI

www.altinkarne.com

Ücretsiz Dokümanlarda

Dijital Kitap

Akıllı Tahta

Dijital Çözüm

www.altinkarne.com

AltınNokta



SOSYAL BİLGİLER

6. SINIF

1. Roller hem insan davranışlarından etkilenir hem de onların davranışlarını etkiler.

I. İçine kapanık olan Ahmet'in çalıştığı mağazada müşterilerle sohbet etmesi,
II. Gök gürültüsü ile beraber Figen'in evde irkilmesi,
III. Evde hiperaktif olan Burcu'nun sınıfta öğretmenini sessizce dinlemesi,

Yukarıda verilenlerden hangileri rollerin insanlar üzerindeki etkisine örnek oluşturmaz?

- A) Yalnız II B) II ve III C) I ve III D) I, II ve III

2. Birinci Dünya Savaşı'nın kaybedilmesinden sonra Türk milleti adına ortaya çıkan ağır sonuçlar karşısında, Atatürk'ün önderliğinde büyük bir milli birlik ve beraberlik örneği gösteren Anadolu insanı, Diyarbakırlı, Erzurumlu, Sivaslı, Sinoplu, Ankaralı; İzmirli, Mardinli olarak harekete geçerek vatanını düşman işgalinden kurtarmıştır.

Yukarıdaki açıklamaya göre Anadolu insanının aşağıdaki kavramlardan hangisini önemseydiği söylenmez?

- A) Ayrışma B) Yardımlaşma C) Birliklilik D) Dayanışma

3. Toplumdaki güçsüz ve zayıf kimseler çeşitli nedenlerden dolayı ön yargılara bağlı olarak daha çok şiddete maruz kalabilmektedir.

Toplumsal ön yargıların oluşmasında insanların;

- I. Giyim tarzı
II. Dini inancı
III. Sosyal durumu

özelliklerinden hangileri etkili olabilmektedir?

- A) I ve II B) I ve III C) II ve III D) I, II ve III



4.

"Ne kadar hazin bir çağda yaşıyoruz. Bir ön yargıyı ortadan kaldırmak, bir atomu parçalamaktan daha zor artık." **Albert Einstein**



Albert Einstein'in yukarıdaki sözü ön yargıların;

- I. Olumlu özellikler taşıması
- II. Değişime direnç göstermesi
- III. Kalıplaşmış tutumlar olması

özelliklerinden hangileri ile ilgilidir?

- A) I ve II B) I ve III C) II ve III D) I, II ve III

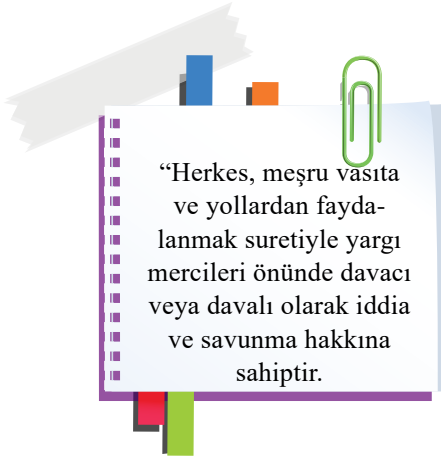
5.

Bedir Savaşı'nda esir düşen Mekkelilerden okuma yazma bilenler on Müslümana okuma yazma öğretmesi karşılığında serbest bırakıldı. Hz. Muhammed'in (s.a.v) bu uygulaması _____ verdiği önemi göstermektedir.

Yukarıda verilen noktalı yere aşağıdakilerden hangisinin yazılması uygundur?

- A) Müslümanların eğitimine B) Kur'an ve dil öğrenmeye
C) Esirlerin köleleştirmesine D) Mekkelilerin siyasi gücüne

6. Anayasamızın 36. maddesi:



Yukarıdaki madde ile aşağıdaki haklarımızdan hangisi anayasal güvence altına alınmıştır?

- A) Hak Arama Hürriyeti B) İnanç Hürriyeti C) Sağlık Hakkı D) Eğitim ve Öğretim Hakkı

7.



Ben Kamil. Sosyal bilgiler dersi sayesinde çeşitli haklarımı öğrendim. **I.** Yaşadığım yerde eğer hizmet aksamaları olursa dilekçe ile yetkililere bilgi verebilirim. **II.** Aldığım ürün eğer bozuk çıkarsa iade etme hakkım var. **III.** Aldığım mağaza ürünü almaz ise İlçe Milli Eğitim Müdürlüğü'ne şikayet edebilirim. **IV.** Ayrıca belediyelerde de tüketici haklarını koruyan birimler bulunmaktadır. O birimlere de başvurabiliriz.

Kamil'in Sosyal bilgiler dersinde öğrendiği numaralı bilgilerden hangisi yanlıştır?

- A) I B) II C) III D) IV

8.



Ayşe, Ediz, Helin ve Can sabah ders zili ile birlikte ders öğretmeninden önce sınıftaki yerini almışlardır.

Yukarıda verilen görsele bakılarak;

- I. Verilen tüm öğrenciler rolüne uygun davranmışlardır.
- II. Sosyal yaşamda sadece Ayşe ve Helin birden fazla role sahiptir.
- III. Öğrencilerin öğretmenden önce sınıfta bulunmaları sorumluluktur.

yargılardan hangilerine ulaşılabilir?

- A) I ve II B) II ve III C) I ve III D) I, II ve III

9.

"Zamanla sayıları çoğaldı.
Buradan çıkmak için dağın içindeki demir
madenini eriterek yol açtılar."

Kök Türklere ait Ergenekon Destanı'nda yazan yukarıdaki ifadeye göre Türkler için;

- I. Ülkelerinin sınırları daralmıştır.
- II. Nüfusları artmıştır.
- III. Madenciligi öğrenmişlerdir.

yorumlardan hangileri yapılabilir?

- A) I ve II B) I ve III C) II ve III D) I, II ve III

10. Türk devletleri içinde ilk defa yerleşik hayata geçen Uygurlar olmuştur.

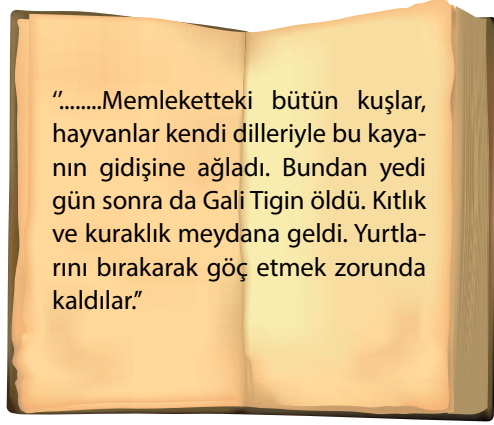
Uygurların yerleşik hayata geçmesi

- I. Mimarinin gelişmesi,
- II. Tarımsal faaliyetlerin önem kazanması,
- III. Bölge ikliminin değişmesi,

sonuçlardan hangisine veya hangilerine ortam hazırlamamıştır?

- A) I ve II B) Yalnız III C) II ve III D) I ve III

11.



Umay Günay'ın "Türk Destanları" adlı eserinin 15. sayfasında yukarıdaki bilgiyi okuyan Hicran aşağıdaki Türk destanlarından hangisi hakkında bilgi edinmektedir?

- A) Türeyiş Destanı B) Oğuz Kağan Destanı C) Bozkurt Destanı D) Göç Destanı

12. **Hız. Ebubekir Dönemi'nde;**

- ◆ Yalancı peygamberlerle mücadele edilmesi,
- ◆ Kur'an-ı Kerim'in kitap haline getirilmesi,

gibi çalışmalarla aşağıdakilerden hangisi amaçlanmıştır?

- A) Mekke ve Medine bölgesini koruma altına almak B) İslam dininin özünü korumak
C) İslam kültürünü değişime zorlamak D) Farklı mezheplerin ortaya çıkmasını sağlamak

13.



Yukarıda verilen görsel aşağıdaki halifelerden hangisi ile özdeşleşmiştir?

- A) Hız. Ebubekir B) Hız. Ali C) Hız. Ömer D) Hız. Osman

14. Türkiye Selçuklularının kilometrelerce aralıklarla yollar üzerinde kervansaray yapmaları;

- I. Ulaşım faaliyetleri
- II. Ticari çalışmalar
- III. Kültürel etkileşim

verilen alanlardan hangilerine katkı sağlamıştır?

- A) I ve II B) I ve III C) II ve III D) I, II ve III

15.

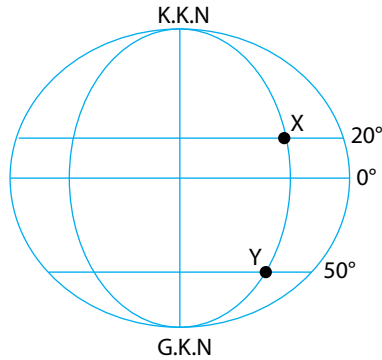


Ben Mısırlı tüccar Ahmed. 1456 yılında Nil Nehri sayesinde çok iyi buğday hasadı yaptık. Aldığımız buğdayları Akdeniz'e açılan ticaret yolu sayesinde Mısır üzerinden Türkler tarafından yeni fethedilmiş olan İstanbul'a getirdim. Burda da çok iyi bir fiyatla sattım.

Yukarıda verilen açıklamaya göre Mısırlı tüccar Ahmed ticari faaliyetlerde aşağıdaki yollardan hangilerinden faydalanmıştır?

- A) İpek yolu – Baharat yolu B) Kral yolu – İpek yolu
C) Kürk yolu – İpek yolu D) Baharat yolu – Kral yolu

16. Aşağıda X ve Y noktalarının coğrafi koordinatları verilmiştir.



Buna göre, X ve Y noktaları için;

- I. Aynı meridyen üzerinde yer alırlar.
- II. Y noktası X noktasına göre ekvatora daha uzaktadır.
- III. X noktası Güney Kutup Noktası'na yakındır.

yorumlardan hangileri yapılabilir?

- A) I ve II B) I ve III C) II ve III D) I, II ve III

17.



Bir yerde, sıcaklık, nem, yağış, rüzgâr ve bulutluluk gibi hava olaylarının uzun yıllar boyunca gösterdikleri ortalama duruma **iklim** denir. Ülkemizde ise üç farklı iklim türü görülmektedir.

Ömer Öğretmen

Türkiye’de farklı iklimlerin görülmesi;

- I. Yetişen tarım ürünlerini,
- II. Ülkede bulunan petrol miktarını,
- III. Bitki örtüsü çeşitliliğini

hangilerini etkilemiştir?

A) I ve II

B) I ve III

C) II ve III

D) I, II ve III

18.



Verilen görselde yeryüzü şekillerinden;

- I. Delta Ovası
- II. Dağ
- III. Akarsu

hangileri bulunmaktadır?

A) I ve II

B) I ve III

C) II ve III

D) I, II ve III

19. Tekin Bey 2014 yılında Diyarbakır'da bir okula Sosyal Bilgiler öğretmeni olarak atandı. 2016 yılında evlendi. 2018'de ise Büşra adında bir kızı dünyaya geldi.

Yukarıda verilen açıklamaya göre Tekin Bey için aşağıdaki yorumlardan hangisi yapılabilir?

- A) Tekin Bey'in rollerinde zamanla artış yaşanmıştır.
- B) Tüm rollerini doğuştan kazanmıştır.
- C) Tekin Bey evlenmeden önce herhangi bir role sahip değildir.
- D) Tekin Bey'in yeni kazandığı bir rol başka bir rolün yok olmasına neden olmuştur.

20. Özgürlük, kişinin başkalarına zarar vermeden dilediğini yapabilmesidir. Bir bireyin özgürlüğü bir başkasının özgürlüğünün başladığı yerde bitmelidir.

Özgürlük ile ilgili aşağıdaki öğrencilerden hangisinin yaptığı yorum doğrudur?

- A) **Defne:** Her hak sahibi insan aynı zamanda sınırsız özgürlüklere sahiptir.
- B) **Hasan:** Özgür bireyler toplumsal olayları görmemezlikten gelirler.
- C) **Osman:** Özgürlük kişiyi siyasi sorumluluktan kurtarır.
- D) **Neşe:** İnsanların doğuştan sahip olduğu vazgeçilmez ve devredilemez bir haktır.







SOSYAL BİLGİLER - 1 . DÖNEM

6. SINIF | CEVAP ANAHTARI

1.	A						
2.	A						
3.	D						
4.	C						
5.	A						
6.	A						
7.	C						
8.	C						
9.	C						
10.	B						
11.	D						
12.	B						
13.	C						
14.	D						
15.	A						
16.	A						
17.	B						
18.	C						
19.	A						
20.	D						

**BAŞARININ GÜVENİLİR ADRESİ
NARTEST AİLESİ OLARAK TÜM ÖĞRENCİLERİMİZE
BAŞARILAR DİLERİZ!**