

MOTİVASYON

O M A G E G O L D

8.
SINIF

TÜM DERSLER GENEL DENEME

5.

DENEME

SÖZEL BÖLÜM

Adı Soyadı:

Okulu:

Sınıfı / Şubesi:

Numarası:

Dersler	Soru Sayısı	Toplam Soru Sayısı	Sınav Süresi (Dakika)
TÜRKÇE	20	50	75
T.C. İNKILAP TARİHİ VE ATATÜRKÇÜLÜK	10		
DİN KÜLTÜRÜ VE AHLAK BİLGİSİ	10		
İNGİLİZCE	10		



AltınNokta

OMGe

NARTEST

O M A G E

TÜRKÇE

5. GENEL DENEME

Bu testte 20 soru vardır.
Cevaplarınızı, cevap kağıdına işaretleyiniz.

1.



Türk Dil Kurumu
Sözlükleri



100
MILLİ MÜCADELE'NİN YÜZÜNCÜ YILI



ç ğ ı ö ş ü á î ü

beklemek

- 1. nesnesiz** Bir iş oluncaya, biri gelinceye değin bir yerde kalmak, durmak
"Ben de seniz bekliyordum zaten" -**Ahmet Ümit**
- 2. -i** Süre tanımak, acele etmemek
"Bu ikramın sebebini anlamak için telaşsız bekledi." -**Nazım Hikmet**
- 3. -i** Bir şeyi, bir kimseyi gözetmek, korumak, muhafaza etmek
Eşyayı beklemek. Tutukluları beklemek
- 4. nesnesiz** Ummak:
"Nikahtan bu kadar keramet bekleme!" -**Peyami Safa**
- 5. nesnesiz** Karşılaşma ihtimali bulunmak:
"Oysa bizi bekleyen yaşam bu değildi" -**Reha Mağden**

Aşağıdaki cümlelerin hangisinde "beklemek" sözcüğü görselde verilen 3. anlama uygun olarak kullanılmıştır?


- Şimdi tüm köy meydanda davullarla bizi bekliyordur.
- Sonunda beklediği haberi postacı getirmişti akşamüstü.
- Asker saatlerdir kıpırdamadan bozulan aracın başında bekliyor.
- Bu işten de beklediğimizi bulamadık, yeni iş aramalıyız.

T.C. İNKILAP TARİHİ VE ATATÜRKÇÜLÜK

5. GENEL DENEME

Bu testte 10 soru vardır.
Cevaplarınızı, cevap kağıdına işaretleyiniz.


1.



KAZANDI

(23 Ağustos 1921)
SAKARYA MEYDAN SAVAŞI

- Fransa'yla TBMM 20 Ekim 1921'de Ankara Antlaşması'nı imzaladı.
- Mustafa Kemal Paşa'ya "Gazi" unvanı ve "Mareşal" rütbesi verildi.
- İtalyanlar Anadolu'da işgal ettikleri yerlerden tamamen çekildi.
- Kafkas Cumhuriyetleriyle TBMM arasında Kars Antlaşması imzalandı.
- Halkın orduya güveni ve savaşın kazanılacağına olan inancı arttı.



KAYBETTİ

Sakarya Meydan Savaşı'nın sonuçları ile ilgili bilgilerden hareketle aşağıdakilerden hangisine ulaşmaz?

- A) İç ve dış politikada bazı gelişmelerin yaşanmasını sağlamıştır.
- B) Askeri zaferler beraberinde siyasi başarıları getirmiştir.
- C) İstanbul Hükümeti'nin otoritesi güçlenmiştir.
- D) TBMM'nin siyasi varlığı bazı devletlerce kabul edilmiştir.

DİN KÜLTÜRÜ VE AHLAK BİLGİSİ

5. GENEL DENEME

Bu testte 10 soru vardır.
Cevaplarınızı, cevap kağıdına işaretleyiniz.

1.

Fitir sadakası; Yüce Allah'ın bize bahşettiği varlığımızın bir şükürü, Ramazan ayında oruçluyken istemeden yaptığımız kusurlu davranışlarımızın bir özrüdür. Ülkemizde daha çok fitre olarak bilinir. Fitir sadakasının bayram namazı vaktine kadar verilmesi gerekir. Böylece bu sadaka sayesinde ihtiyaç sahipleri de bayram coşkusuna ortak edilmiş olur.

Fitir sadakası ile ilgili verilen bilgilerde aşağıdaki sorulardan hangisinin cevabı yoktur?

- A) Fitir sadakası niçin verilir?
- B) Fitir sadakasının diğer adı nedir?
- C) Fitir sadakası ne zaman verilir?
- D) Fitir sadakası ne kadar verilir?

OM G^e



İNGİLİZCE

5. GENEL DENEME

Bu testte 10 soru vardır.
Cevaplarınızı, cevap kağıdına işaretleyiniz.

1. Meryem invites her friend, Sinem, to dinner. She wants to prepare meals according to Sinem's preferences. Here is some information about Sinem's food preferences:

- Sinem likes vegetable soups.
- She would rather white meat than red meat.
- She is fond of desserts with syrup.

According to the information above, which of the following is the most appropriate menu for Sinem?

A)



B)



C)



D)



ÖĞRENCİLERİN DİKKATİNE

1. Cevap kâğıdınızı silinmeyen bir kalemle imzalayınız.
2. Cevaplamaya istediğiniz sorudan başlayabilirsiniz.
3. Cevaplarınızı, cevap kâğıdındaki ilgili soru numarasını dikkate alarak yuvarlağın dışına taşırmeden kurşun kalemle kodlayınız.
4. Cevabını bilmediğiniz sorular üzerinde fazla zaman kaybetmeden diğer sorulara geçiniz. Zamanınız kalırsa bu sorulara daha sonra dönebilirsiniz.
5. Soru kitapçığının içindeki boş alanları çözümlerinizi için kullanabilirsiniz.
6. Soru kitapçığının sayfalarını görevlilerin uyarıları doğrultusunda kontrol ediniz, baskı hatası var ise değiştirilmesini sağlayınız.
7. Soru kitapçığı üzerinde yapıp cevap kâğıdına işaretlenmeyen cevaplar değerlendirmeye alınmayacaktır.
8. Değiştirmek istediğiniz bir cevabı, yumuşak silgiyle cevap kâğıdını yıpratmadan temizce siliniz ve yeni cevabınızı kodlayınız.
9. Cevap kâğıdınızı sınav süresince hiçbir öğrencinin göremeyeceği şekilde önünüzde bulundurunuz.
10. Sınav bitiminde, soru kitapçığı ve cevap kâğıdını salon görevlilerine teslim ediniz.

Copyright©ALTIN NOKTA

Bu kitabın her hakkı saklıdır. Tüm hakları ALTIN NOKTA YAYINEVİ'ne aittir. Kısmen de olsa alıntı yapılamaz. Metinler, kitabı yayımlayan kurumun önceden izni olmaksızın elektronik, mekanik, fotokopi ya da herhangi bir kayıt sistemiyle çoğaltılamaz, yayımlanamaz.

MOTİVASYON

O M A G E G O L D

8.
SINIF

TÜM DERSLER GENEL DENEME

5.

DENEME

SAYISAL BÖLÜM

Adı Soyadı:

Okulu:

Sınıfı / Şubesi:

Numarası:

Dersler	Soru Sayısı	Toplam Soru Sayısı	Sınav Süresi (Dakika)
MATEMATİK	20	40	80
FEN BİLİMLERİ	20		



AltınNokta

OMGe

NAKİTEST

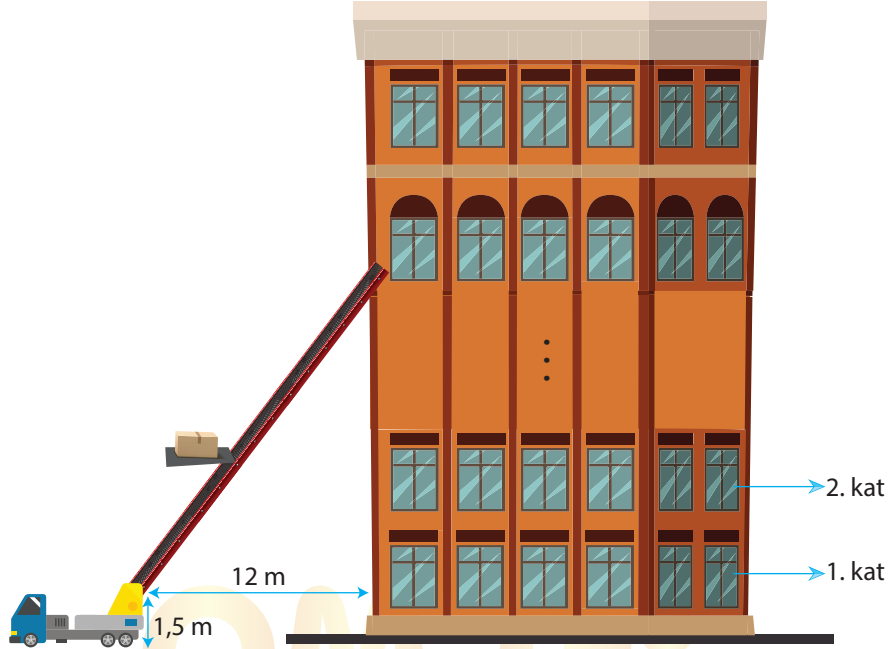
O M A G E

MATEMATİK

5. GENEL DENEME

Bu testte 20 soru vardır.
Cevaplarınızı, cevap kağıdına işaretleyiniz.

1.



Bir nakliye aracı, yük taşımak için apartmana 12 m mesafede durarak %150 eğimle zemine uzaklığı 1,5 m olan nakliye merdiveniyle eşya taşımaktadır.

Apartmandaki her bir dairenin yüksekliği 3 m olduğuna göre apartmanın kaçınıcı katına eşya taşınmaktadır?

A) 3

B) 4

C) 5

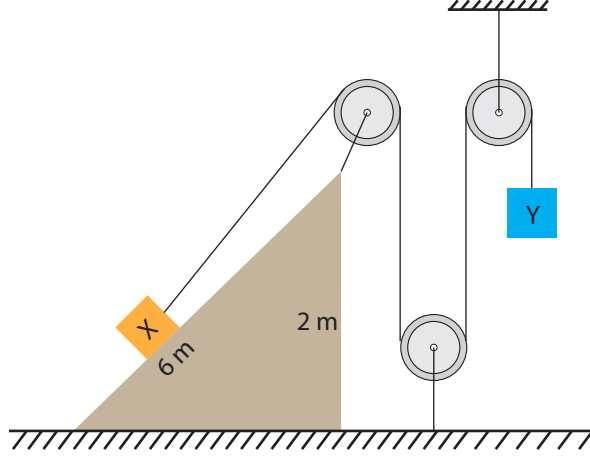
D) 7

FEN BİLİMLERİ

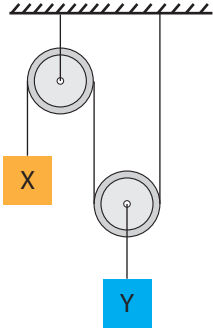
5. GENEL DENEME

Bu testte 20 soru vardır.
Cevaplarınızı, cevap kağıdına işaretleyiniz.

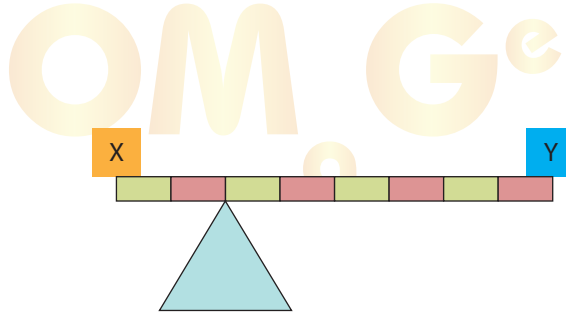
1. X ve Y cisimleri aşağıda oluşturulan sistem ile denge durumuna getiriliyor.



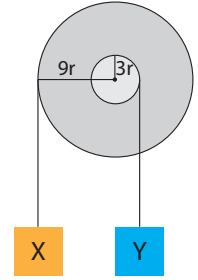
Daha sonra X ve Y cisimleri kullanılarak aşağıdaki düzenekler oluşturuluyor.



I. düzenek



II. düzenek



III. düzenek

Sürtünmeler, makara ve çubuk ağırlıkları ihmal edildiğine göre düzeneklerden hangisinde X ve Y cisimleri dengede kalmaz?

- A) Yalnız I B) I ve III C) II ve III D) I, II ve III